



TRABAJO PÁGINAS DEL LIBRO DE 3° BÁSICO


Sumar grupos iguales

3 Tome 2 vasos.
Ponga 7 palos de helado en cada vaso.




Complete: $\square + \square = \square$
 2 grupos de 7 = \square
 $2 \times 7 = \square$

4 Tome 6 vasos.
Ponga 4 palos de helado en cada vaso.



Complete: $\square + \square + \square + \square + \square + \square = \square$
 6 grupos de 4 = \square
 $6 \times 4 = \square$

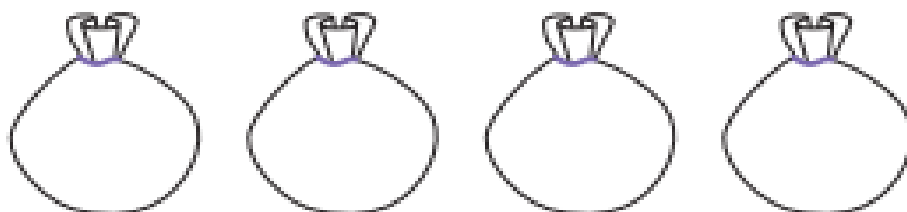
5 Tome 4 vasos.
Ponga 5 palos de helado en cada vaso.



Complete: $\square + \square + \square + \square = \square$
 4 grupos de 5 = \square
 $4 \times 5 = \square$

Sumar grupos iguales

5 2 lápices en cada bolsa



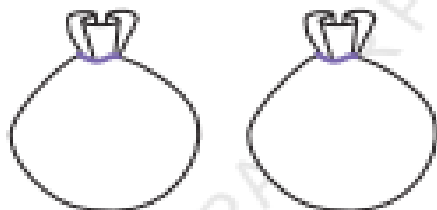
Hay 4 bolsas con 2 lápices cada una. En total hay _____ lápices.

6 1 lápiz en cada bolsa



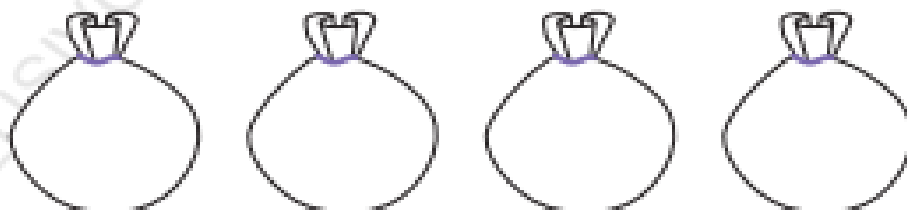
Hay 3 bolsas con 1 lápiz cada una. En total hay _____ lápices.

7 3 lápices en cada bolsa



Hay 2 bolsas con 3 lápices cada una. En total hay _____ lápices.

8 3 lápices en cada bolsa



Hay 4 bolsas con 3 lápices cada una. En total hay _____ lápices.

Entender el concepto de multiplicación

Observe y complete siguiendo el ejemplo.

1




$$\underline{5} + \underline{5} = \underline{10}$$

$$\underline{2} \text{ grupos de } \underline{5} = \underline{10}$$

$$\underline{2} \times \underline{5} = \underline{10}$$

2




$$\underline{\quad} + \underline{\quad} + \underline{\quad} = \underline{\quad}$$

$$\underline{\quad} \text{ grupos de } \underline{\quad} = \underline{\quad}$$

$$\underline{\quad} \times \underline{\quad} = \underline{\quad}$$

3



$$\underline{\quad} + \underline{\quad} + \underline{\quad} + \underline{\quad} + \underline{\quad} = \underline{\quad}$$

$$\underline{\quad} \text{ grupos de } \underline{\quad} = \underline{\quad}$$

$$\underline{\quad} \times \underline{\quad} = \underline{\quad}$$

4



$$\underline{\quad} + \underline{\quad} = \underline{\quad}$$

$$\underline{\quad} \text{ grupos de } \underline{\quad} = \underline{\quad}$$

$$\underline{\quad} \times \underline{\quad} = \underline{\quad}$$

$$5 + 5 + 7 =$$
$$10 + 7 = 17$$

**Florencia Cantó 17
canciones.**

$$60 + 40 + 10 =$$
$$100 + 10 = 110$$

Emilia hizo 110 figuras.