



**TRABAJO PÁGINAS DEL LIBRO DE 3° BÁSICO**

**Restar números de 3 dígitos con canje**

Determine si es necesario desagrupar las decenas y/o centenas. Dibújelas y luego tache para restar. Escriba el resultado. Anote el canje.

1

C	D	U

¿Hay que desagrupar una decena?

sí      no

¿Hay que desagrupar una centena?

sí      no

C	D	U
□	□	□
2	0	9
-	1	6

2

C	D	U

¿Hay que desagrupar una decena?

sí      no

¿Hay que desagrupar una centena?

sí      no

C	D	U
□	□	□
7	5	0
-	3	2

3

C	D	U

¿Hay que desagrupar una decena?

sí      no

¿Hay que desagrupar una centena?

sí      no

C	D	U
□	□	□
8	0	2
-	7	1

## Restar números de 3 dígitos con canje

Determine si es necesario desagrupar las decenas y/o centenas. Dibújelas y luego tache para restar. Escriba el resultado. Anote el canje.

1

C	D	U

¿Hay que desagrupar una decena?

sí                  no

¿Hay que desagrupar una centena?

sí                  no

	C	D	U
	<input type="checkbox"/>	<input type="checkbox"/>	<input type="checkbox"/>
	3	8	2
-	3	6	7

2

C	D	U

¿Hay que desagrupar una decena?

sí                  no

¿Hay que desagrupar una centena?

sí                  no

	C	D	U
	<input type="checkbox"/>	<input type="checkbox"/>	<input type="checkbox"/>
	8	2	7
-	6	4	3

3

C	D	U

¿Hay que desagrupar una decena?

sí                  no

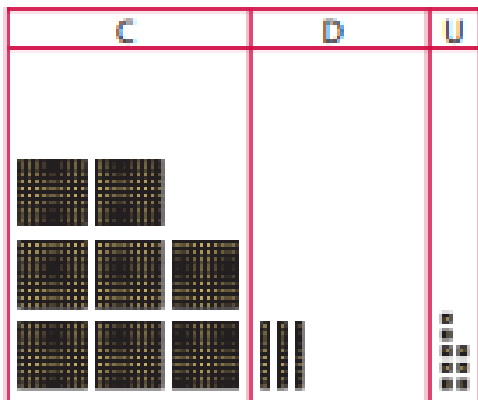
¿Hay que desagrupar una centena?

sí                  no

	C	D	U
	<input type="checkbox"/>	<input type="checkbox"/>	<input type="checkbox"/>
	8	9	2
-	1	6	7

## Restar números de 3 dígitos con canje

7



¿Hay que desagrupar una decena?

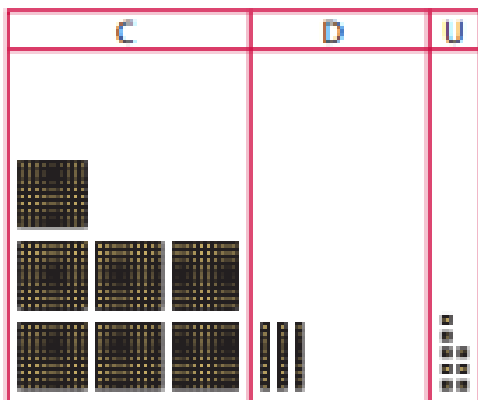
si                  no

¿Hay que desagrupar una centena?

si                  no

C	D	U
<input type="checkbox"/>	<input type="checkbox"/>	<input type="checkbox"/>
8	3	8
-	9	7

8



¿Hay que desagrupar una decena?

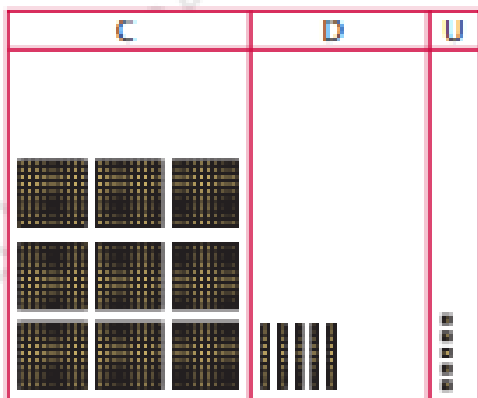
si                  no

¿Hay que desagrupar una centena?

si                  no

C	D	U
<input type="checkbox"/>	<input type="checkbox"/>	<input type="checkbox"/>
7	3	8
-	4	4

9



¿Hay que desagrupar una decena?

si                  no

¿Hay que desagrupar una centena?

si                  no

C	D	U
<input type="checkbox"/>	<input type="checkbox"/>	<input type="checkbox"/>
9	5	5
-	2	7