

Ordenar números hasta el 1 000

Ordene los números de menor a mayor.

1

482 451 432 491

432 — 451 — 482 — 491

2

295 595 495 795

— — — —

3

823 811 820 854

— — — —

4

679 715 769 571

— — — —

Encuentre tres números que puedan reemplazar a la figura, para que todos queden ordenados de menor a mayor.

1

425 — 430 —  — 434

 = 431 — — —

2

785 —  — 789 — 793

 = — — —

3

108 — 198 —  — 203

 = — — —

4

390 — 490 —  — 500









 = — — —

Ordenar números hasta el 1 000

Ordene los números de mayor a menor.

1	287	278	298	289
	298	289	287	278
2	510	201	80	150
3	532	523	541	514
4	131	129	130	132

Encuentre tres números que puedan reemplazar a la figura, para que todos queden ordenados de mayor a menor.

1	263		259	239
		=	<u>262</u>	_____
2	870	860		799
		=	_____	_____
3	780	680		580
		=	_____	_____
4	500		490	390
		=	_____	_____