



GUÍA DE TRABAJO 3° BÁSICO

Escribe en forma desarrolla los siguientes ejercicios.
(Puedes practicar si deseas la pág. 21 de tu libro).

C	D	U
2	3	4

$$\underline{200} + \underline{30} + \underline{4} = \underline{234}$$

Escriba la cantidad y el número en forma desarrollada.

1

C	D	U
3	3	4

$$\underline{300} + \underline{30} + \underline{4} = \underline{334}$$

2

C	D	U
4	5	1

$$\underline{400} + \underline{50} + \underline{1} = \underline{451}$$

3

C	D	U
2	4	6

$$\underline{200} + \underline{40} + \underline{6} = \underline{246}$$

4

C	D	U
1	7	9

$$\underline{100} + \underline{70} + \underline{9} = \underline{179}$$

5

C	D	U
2	2	2

$$\underline{200} + \underline{20} + \underline{2} = \underline{222}$$

6

C	D	U
3	2	6

$$\underline{300} + \underline{20} + \underline{6} = \underline{326}$$

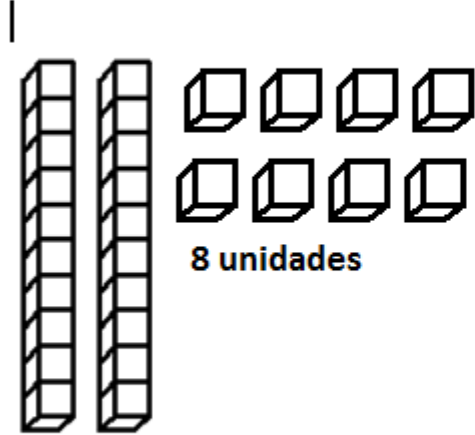
Resolución de problemas:

Explica y dibuja

¿Cómo sabes que 28 y 208 no nombran el mismo número?.

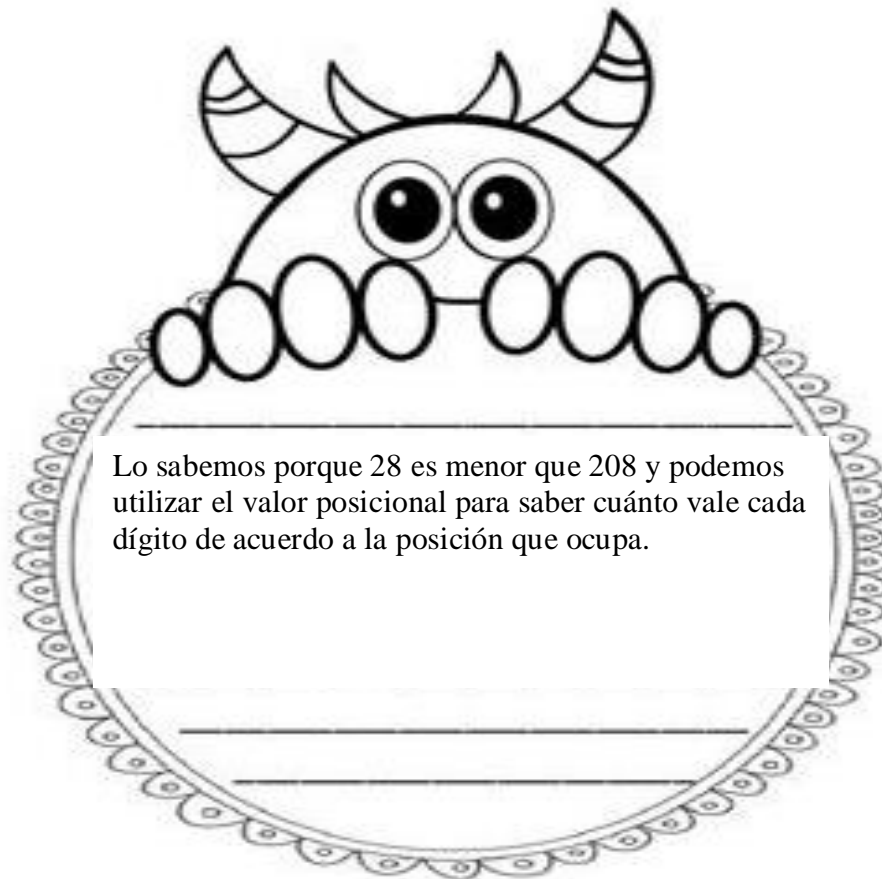
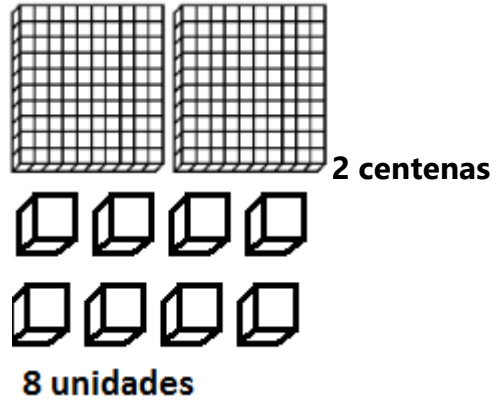
Dibuja aquí

28= Tiene 8 unidades y 2 decenas



2 decenas

208= tiene 2 centenas, 0 decenas y 8 unidades.



Si quieres seguir trabajando esto es opcional tú eliges.



Calabazas de valor posicional



Escribe el número que muestran los bloques de valor posicional que se encuentra dentro de cada calabaza.

