



GUÍA DE TRABAJO 4

- Comprender la división resolviendo ejercicios de división exacta, divisiones por 1 y por sí mismo.
- Aplicar lo aprendido en la resolución de problemas.

Luego de haber visto el PPT con atención, imprime la siguiente guía y resuelve..

Si tienes el libro tomo 1 te indico las páginas. Seleccioné algunos ejercicios de cada página.

El ticket de salida lo pegas en tu cuaderno con la fecha correspondiente.

Divida.

Pág 213

1	10 : 2 =	2	21 : 7 =
	porque		porque
3	18 : 3 =	4	20 : 5 =
	porque		porque

Pág215

Resolver problemas

Lea atentamente cada enunciado, escriba la operación y resuelva.

1 Si debe repartir equitativamente 10 canarios en 5 jaulas, ¿cuántos canarios habrá en cada una?

R: _____

2 Si tiene 8 tortugas acuáticas y quiere distribuir las en peceras en grupos de a 4, ¿cuántas peceras necesita?

R: _____

Resuelva cada división y compruebe.

<p>1 1 0 : 5 = 2</p> <p style="margin-left: 20px;">- 1 0</p> <p style="margin-left: 40px;">0</p> <p>Compruebe: 5 · 2 = 1 0</p>	<p>2 8 : 2 =</p> <p>Compruebe:</p>
<p>3 2 5 : 5 =</p> <p>Compruebe:</p>	<p>4 1 4 : 2 =</p> <p>Compruebe:</p>

Compare utilizando los signos <, >, o =.

<p>1 5 : 5 ○ 8 : 8</p> <p style="margin-left: 20px;">□ = □</p>	<p>2 7 : 1 ○ 7 : 7</p> <p style="margin-left: 20px;">_____</p>	<p>3 3 : 1 ○ 5 : 1</p> <p style="margin-left: 20px;">_____</p>
<p>4 4 : 4 ○ 1 : 1</p> <p style="margin-left: 20px;">_____</p>	<p>5 9 : 9 ○ 9 : 1</p> <p style="margin-left: 20px;">_____</p>	<p>6 2 : 2 ○ 2 : 1</p> <p style="margin-left: 20px;">_____</p>

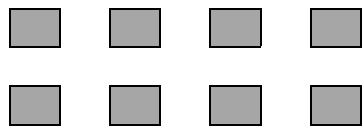
Resuelva.

1 Miguel tiene 6 correas para pasear a sus perros. Si utiliza 1 correa para cada perro, ¿cuántos perros tiene Miguel?

TICKET DE SALIDA

FECHA

1. Tome el total de cubos que indica la figura. Reparte de todas formas posibles en grupos iguales y complete. Encierra con diferente color.




1 grupo de _____

2 grupos de _____

4 grupos de _____


_____ grupos de 8

2. Observe y complete.



Tengo _____ peces en total.

Formé _____ grupos de _____.



Tengo _____ peces en total.

Formé _____ grupos de _____.